
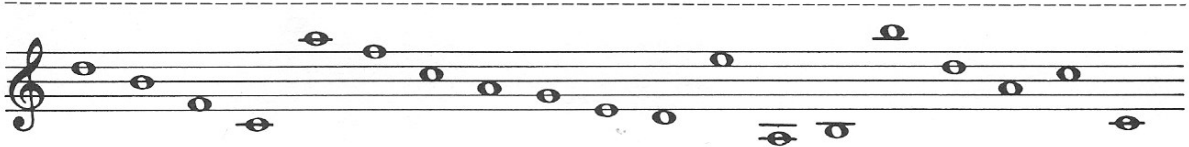



Absolute Notennamen 

1 Wie heissen die Noten? Schreibe die Namen darunter!





2 Schreibe mehrere Noten gleichen Namens auf!

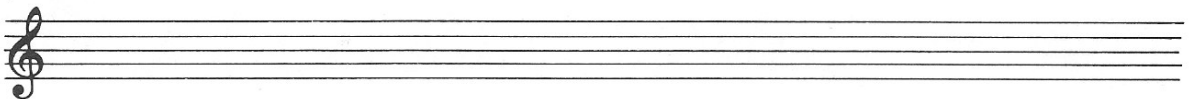


f h d a g c e d f g h

3 Wie heissen diese Noten mit Versetzungszeichen? Schreibe die Namen darunter!

4 Schreibe über den Namen die richtige Note!



d cis a b d fis g ais des as es c e dis h gis

5 «Noten-Sprachspiele»



D A C H S*